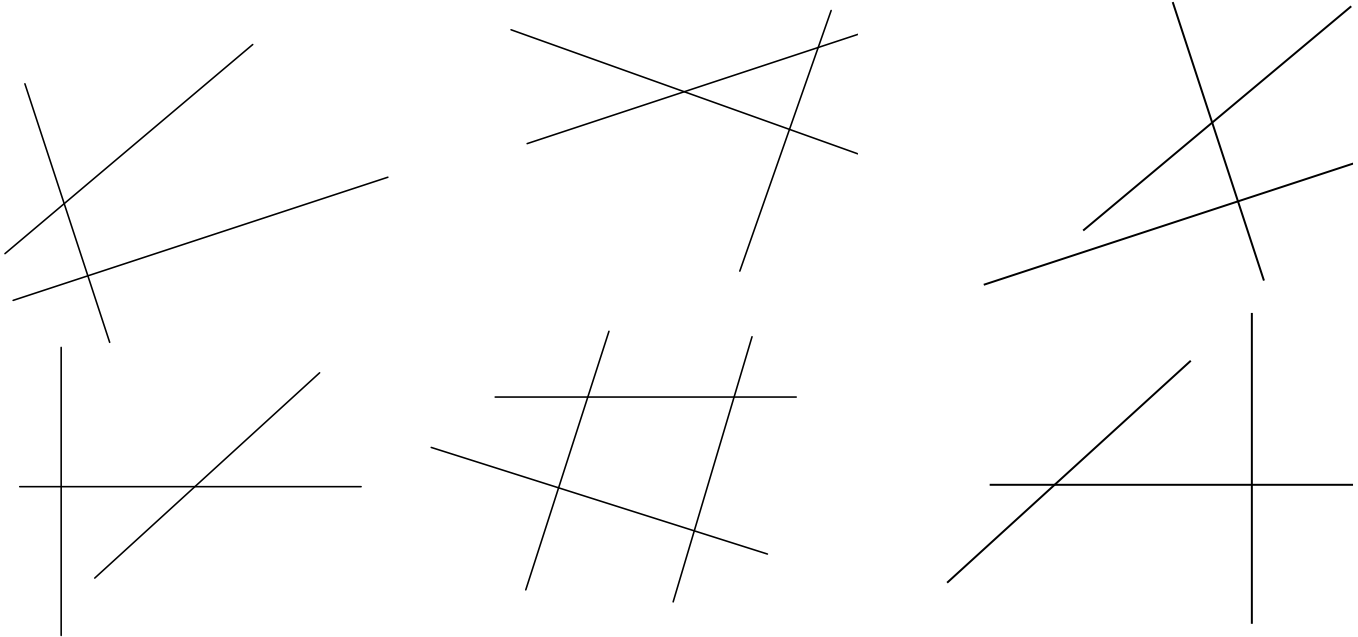
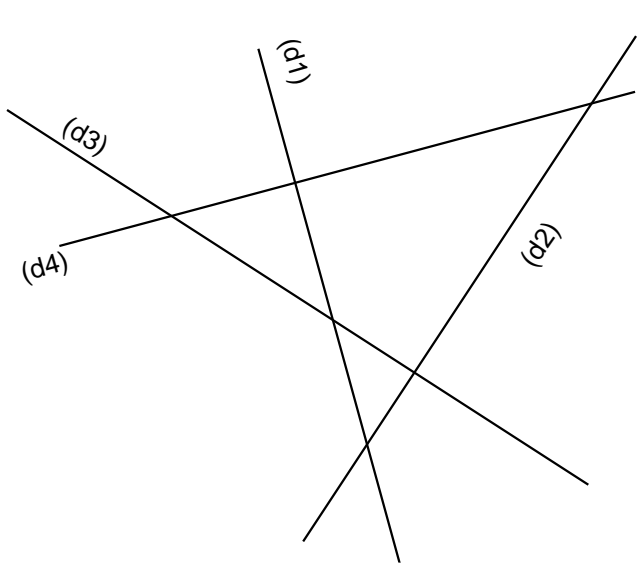


Les droites perpendiculaires

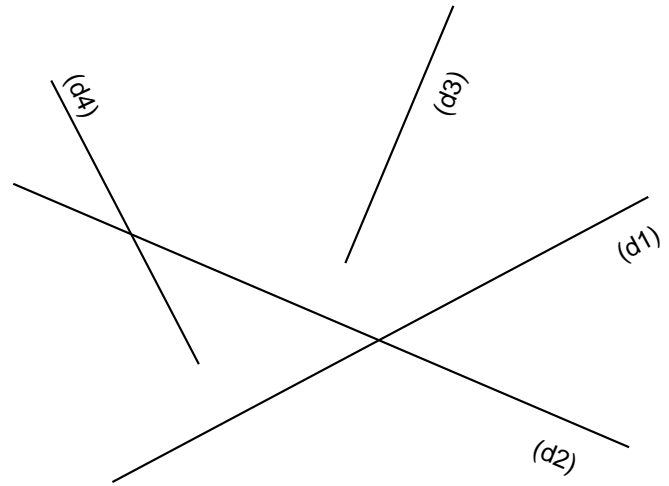
1/ Retrouve à l'aide de l'équerre les droites perpendiculaires, repasse-les en couleur et mets les angles droits.



2/ Réponds aux questions suivantes à l'aide de ton équerre



- Les droites (d1) et (d2) sont – elles perpendiculaires ?
- Les droites (d1) et (d3) sont – elles perpendiculaires ?
- Les droites (d1) et (d4) sont – elles perpendiculaires ?
- Les droites (d2) et (d3) sont – elles perpendiculaires ?
- Les droites (d2) et (d4) sont – elles perpendiculaires ?
- Les droites (d3) et (d4) sont – elles perpendiculaires ?



- Les droites (d1) et (d2) sont – elles perpendiculaires ?
- Les droites (d1) et (d3) sont – elles perpendiculaires ?
- Les droites (d1) et (d4) sont – elles perpendiculaires ?
- Les droites (d2) et (d3) sont – elles perpendiculaires ?
- Les droites (d2) et (d4) sont – elles perpendiculaires ?
- Les droites (d3) et (d4) sont – elles perpendiculaires ?